

## ВТОРОЙ ОТБОРОЧНЫЙ ЭТАП, 1 ВАРИАНТ 2023/2024

1. (2 балла) Один интернет-магазин решил добавить для пользователей мобильных устройств кнопку чата в углу экрана. Но перед этим он выбрал большую репрезентативную группу своих постоянных клиентов, чтобы посмотреть, насколько востребованной будет эта функция. Оказалось, что в этой группе половина — пользователи Android, треть — пользователи браузерной версии, а остальные — пользователи iOS. При этом после теста выяснилось, что из пользователей Android кнопкой чата воспользовались лишь 40%, среди пользователей браузерной версии — 65%, а среди пользователей iOS — 95%. (Известно, что каждый клиент в группе пользуется только одной из платформ.)

Исходя из этих данных, если постоянный клиент воспользовался кнопкой чата, то пользователем какой платформы из этих трех он вероятнее всего является?

- a. Android
  - b. Браузерная версия (+)
  - c. iOS
  - d. Из этих условий невозможно однозначно определить ответ
2. (2 балла) Юный исследователь захотел оценить количество посетителей ближайшего торгового центра. Заняться проведением наблюдений было решено в выходные. Он тщательно пересчитал всех посетителей ТЦ в субботу и воскресенье. За время наблюдений получилось, что в среднем ТЦ посещает 1548 человек в день, или 46 440 человек за месяц. Как вы можете прокомментировать полученную оценку числа посетителей?
- a. Эта оценка близка к реальному количеству посетителей
  - b. Эта оценка будет занижать количество посетителей

- c. Эта оценка будет завышать количество посетителей (+)
  - d. Недостаточно данных, чтобы ответить на вопрос
3. (2 балла) Один интернет-магазин в конце 2023 года решил объявить список из 7 своих самых продаваемых товаров за год. Каждый из аналитиков магазина, включая главу аналитики и стажера, попробовал угадать этот список — и записал заранее 7 товаров, которые, как он предположил, туда попадут. После оглашения списка оказалось, что половина аналитиков угадали от 3 до 6 товаров, глава аналитики угадал все товары, стажер угадал лишь 1 товар. А остальные угадали ровно по 2 товара, причем среди них нет тех, кто угадал один и тот же набор из 2 товаров, а также нет тех, кто угадал товар, угаданный стажером.

Какое максимальное число аналитиков может работать в этом магазине?

- a. 34 (+)
  - b. 36
  - c. 44
  - d. 46
4. (5 баллов) Выборка состоит из 3051 различного числа, причем все числа положительные и представимы в виде конечной десятичной дроби. Все числа из выборки упорядочили по возрастанию и разделили на 9 равных по величине групп, которые пронумеровали от 1 до 9. То есть первые 339 чисел упорядоченной выборки оказались в группе 1, следующие 339 чисел — в группе 2 и так далее. Выберите все верные утверждения:
- a. Среднее арифметическое чисел в группе 3 больше среднего арифметического чисел в группе 2 (+)
  - b. Если одно число больше другого в 9 раз, то они обязательно окажутся в разных группах
  - c. Медиана выборки обязательно окажется в группе 5 (+)
  - d. Сумма двух чисел из группы 1 не может оказаться больше числа из группы 9
  - e. Среди перечисленного выше нет верных ответов
5. (5 баллов) В таблице ниже представлено распределение ответов школьников на вопрос «Как изменилась ваша успеваемость в этом учебном году

по сравнению с предыдущим?». Все ученики отвечали на вопрос правдиво, таким образом, представленные числа отражают реальное изменение успеваемости.

Ответ	Частота
Значительно улучшилась	16
Немного улучшилась	8
Не изменилась	12
Немного ухудшилась	4
Сильно ухудшилась	3

Выберите все верные варианты ответа:

- a. Успеваемость улучшилась более чем у половины школьников (+)
  - b. Успеваемость не улучшилась более чем у половины школьников
  - c. У медианного школьника успеваемость не изменилась
  - d. У медианного школьника успеваемость немного улучшилась (+)
  - e. Среди перечисленного выше нет верных ответов
6. (5 баллов) Кристина устала от подсчета обычного среднего арифметического — и решила придумать свое среднее, которое назвала «среднее Кристинино». Оно считается так: если имеется выборка из  $N$  различных чисел, то она сначала упорядочивается либо по возрастанию, либо по убыванию, а затем считается среднее арифметическое первых 2 чисел, потом — среднее арифметическое получившегося среднего и следующего числа из выборки, затем — получившегося теперь числа и следующего числа из выборки и так далее.

Например, если выборка состоит из 5 упорядоченных по возрастанию/убыванию чисел  $a_1, a_2, a_3, a_4, a_5$ , то:

$$m_{\text{Кр}} = \frac{\frac{a_1 + a_2}{2} + a_3}{2} + a_4}{2} + a_5$$

Кристина решила протестировать работу придуманного ею среднего и взяла какую-то выборку из 16 различных натуральных чисел  $a_1, a_2, \dots, a_{16}$ , каждое от 1 до 100. Она упорядочила выборку либо по возрастанию, либо по убыванию, затем посчитала среднее Кристинино и среднее арифметическое — и сравнила их.

Какие результаты могли получиться у Кристины?

- a. Если Кристина упорядочила выборку по возрастанию, то среднее Кристинино могло оказаться больше среднего арифметического (+)
  - b. Если Кристина упорядочила выборку по возрастанию, то среднее Кристинино могло оказаться меньше среднего арифметического
  - c. Если Кристина упорядочила выборку по убыванию, то среднее Кристинино могло оказаться больше среднего арифметического
  - d. Если Кристина упорядочила выборку по убыванию, то среднее Кристинино могло оказаться меньше среднего арифметического (+)
  - e. Среди перечисленного выше нет верных ответов
7. (8 баллов, по 2 на каждый вопрос) Предположим, в стране проживает 9 человек, доходы которых представлены в таблице ниже. Государству не нравится, что средний доход отличается от медианного, и оно хочет это исправить. Для этого предлагается ввести в стране налоги на богатых и раздать эти деньги другим гражданам. При этом государство также хочет собирать как можно меньше налогов с богатых.

Вам необходимо посчитать, сколько налогов и субсидий необходимо собрать и раздать, чтобы медиана и среднее оказались равны. Если подходящих способов несколько, используйте любой из них для ответа на все вопросы ниже

Житель	A	B	C	D	E	F	G	H	I
Доход (y. e.)	8	10	10	20	30	60	100	170	600

Вопрос 1. Кто из жителей будет получать субсидию? Перечислите их в алфавитном порядке через запятую.

Ответ: E, F, G

Вопрос 2. Какую субсидию будет получать каждый из тех жителей, которых вы перечислили выше? Перечислите их через запятую в порядке, соответствующем порядку жителей. Если ответ представлен в виде дроби, округлите его до целого. Единицы измерения указывать не нужно.

Ответ: 82, 52, 12

Вопрос 3. Кто из жителей будет платить налог? Перечислите их в алфавитном порядке через запятую.

Ответ: либо I; либо H, I

Вопрос 4. Какой объем налогов суммарно заплатят все, кого вы перечислили выше? Если ответ представлен в виде дроби, округлите его до целого. Единицы измерения указывать не нужно.

Ответ: 146

8. (5 баллов) В таблице ниже приведены данные об общей кредитной задолженности компаний и индивидуальных предпринимателей по видам экономической деятельности и направлениям использования средств (в млн рублей).

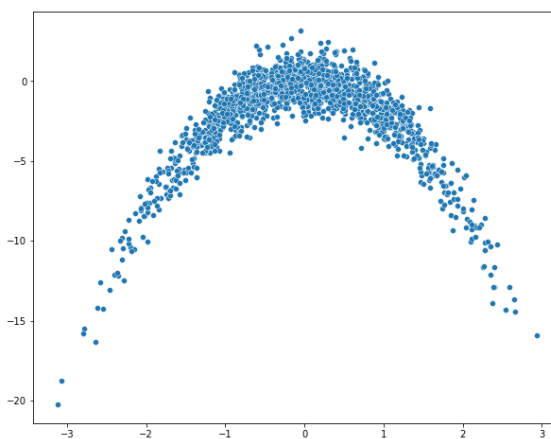
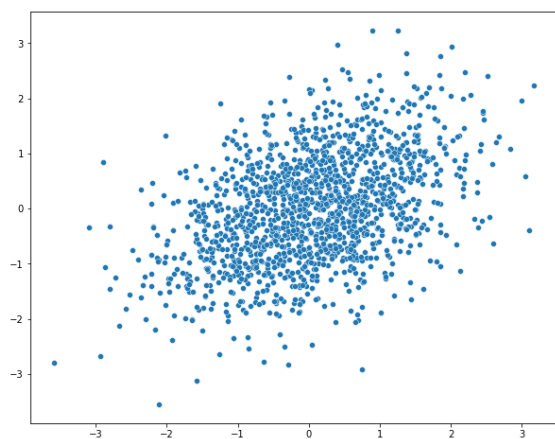
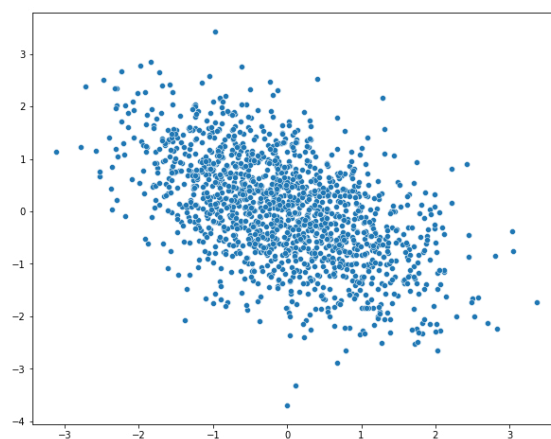
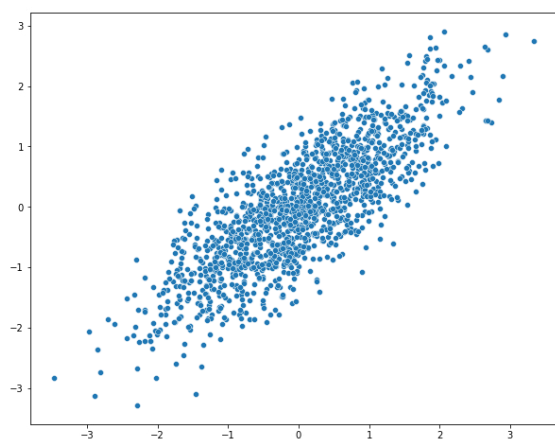
Виды экономической деятельности и отдельные направления использования средств	01.02.2019	01.03.2019	01.04.2019
ВСЕГО	25 728 662	25 885 238	26 209 480
добыча полезных ископаемых	959 863	973 512	986 700
обрабатывающие производства	6 082 270	6 137 454	6 138 053
производство и распределение электроэнергии, газа и воды	1 218 916	1 207 717	1 180 787
сельское хозяйство, охота и лесное хозяйство	1 725 294	1 746 871	1 800 908
строительство	1 063 041	1 087 213	1 108 528
транспорт и связь	1 771 028	1 805 037	1 841 668
оптовая и розничная торговля	3 681 859	3 678 621	3 747 668
операции с недвижимым имуществом, аренда и предоставление услуг	3 874 280	3 915 409	3 936 643
прочие виды деятельности	5 078 084	5 040 035	5 163 325
на завершение расчетов	274 027	293 369	305 200

Выберите все верные утверждения из представленных ниже:

- a. За март 2019 г. общий объем кредитов вырос примерно на 0,6%
- b. Кредиты в секторе оптовой и розничной торговли в среднем растут в феврале — марте 2019 г.

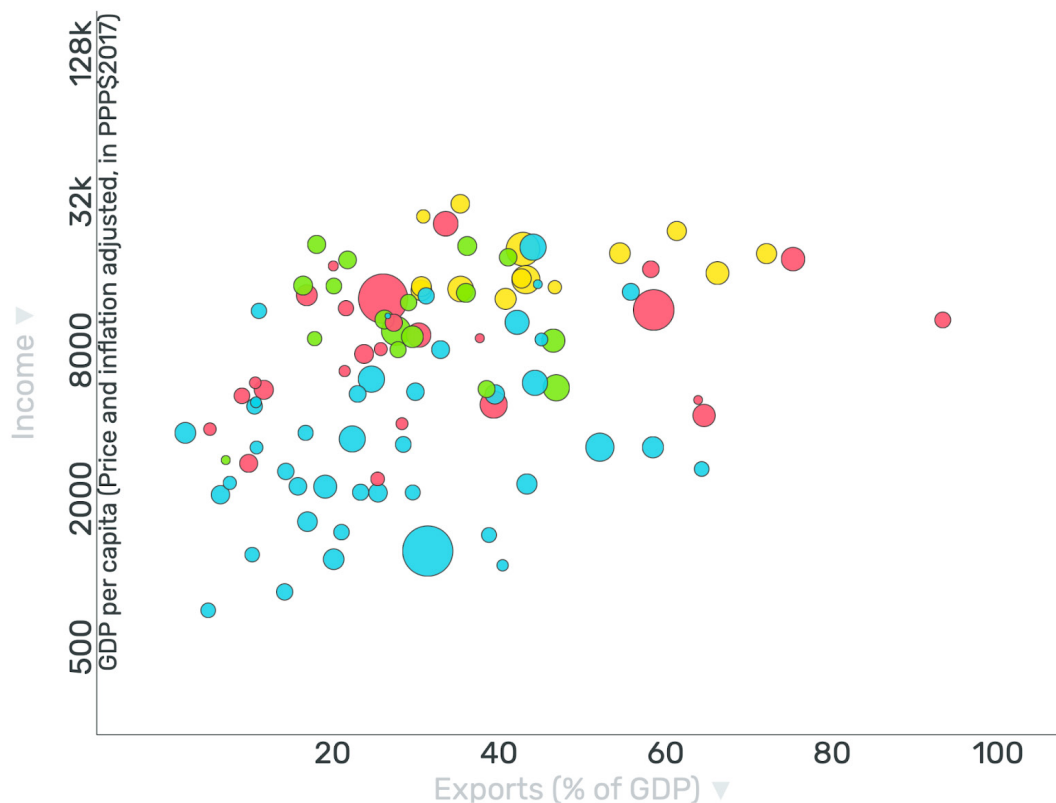
- c. На три вида экономической деятельности с самым большим объемом задолженности в указанный период приходилось более половины всей задолженности в экономике (+)
- d. Доля задолженности обрабатывающих производств в общем объеме снизилась за рассматриваемый промежуток времени (+)
- e. Среди перечисленного выше нет верных ответов

9. (4 балла, по 1 за каждый график) Установите взаимосвязь между данными на графике и значениями коэффициента корреляции.



- a. 0,8
- b. -0,5
- c. 0,4
- d. -0,04

10. (5 баллов) На рисунке изображена диаграмма рассеяния, показывающая взаимосвязь между доходами населения и долей экспорта в ВВП по состоянию на 2021 год. На графике представлены в основном развивающиеся страны.



По вертикальной оси отражен реальный ВВП на душу населения в долларах (показатель скорректирован на инфляцию и пересчитан по паритету покупательной способности для сопоставимости между странами). Для наглядности графика значения ВВП преобразованы, при этом способ качественно не влияет на выводы.

По горизонтальной оси отражено отношение экспорта страны к ее ВВП.

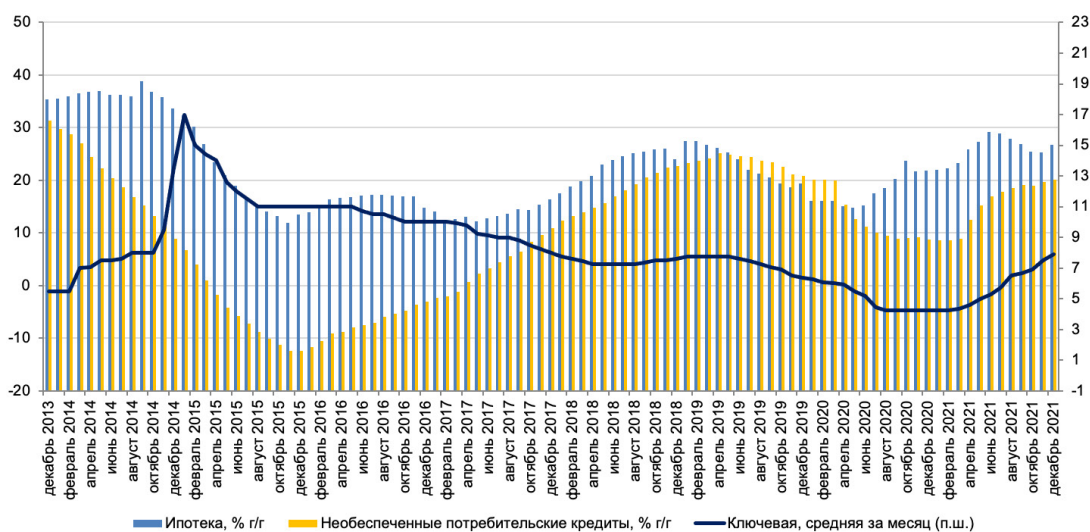
Размер кругов отображает третий показатель — отношение совокупного внешнего долга страны к валовому национальному доходу — и отражает задолженность страны (государства и частных лиц) перед нерезидентами (иностранными государствами, фирмами и людьми). Чем больше размер круга, тем больше задолженность страны.

Цвет кругов обозначает разные регионы мира: голубой — Африка, красный — Азия (включая Австралию и Новую Зеландию), зеленый — Америка (Северная и Южная вместе), желтый — Европа.

Выберите все верные утверждения, которые можно сделать на основании этого графика про страны, которые на нем изображены:

- a. В среднем доход на душу населения в странах Европы выше, чем в странах Африки (+)
- b. В среднем отношение экспорта к ВВП в странах Европы ниже, чем в странах Северной и Южной Америки
- c. Разброс доходов на душу населения в странах Европы выше, чем в странах Африки
- d. Три страны с наибольшим отношением задолженности иностранному сектору к доходу — страны Африки и Азии (+)
- e. Среди перечисленного выше нет верных ответов

11. (5 баллов) На графике (взято из Обзора российского финансового сектора и финансовых инструментов Банка России за 2021 г) показана динамика ипотечного и необеспеченного потребительского кредитования в России за 2014–2021 годы, а также ключевая ставка за тот же промежуток времени. Темпы прироста кредитования отложены по левой шкале, ключевая ставка — по правой.



Выберите все утверждения, которые можно сделать на основе приведенного выше графика:

- a. Темпы роста ипотечного кредитования в среднем более стабильны, чем темпы роста необеспеченного кредитования (+)
- b. С октября 2014 по октябрь 2015 объем ипотечного кредитования снижался
- c. В течение 2017 года темп роста необеспеченного потребительского кредитования увеличивался (+)

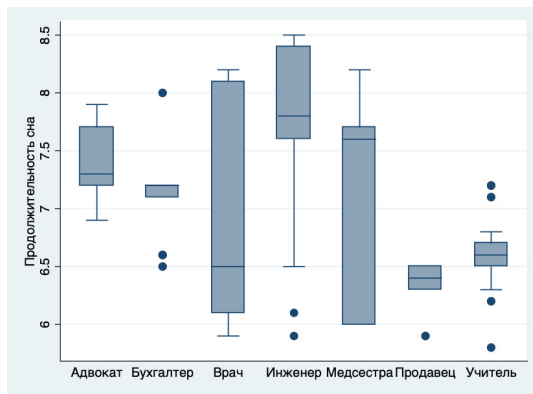


d. В первой половине 2015 года наблюдается отрицательная взаимосвязь между темпами роста ипотечного кредитования и ключевой ставкой

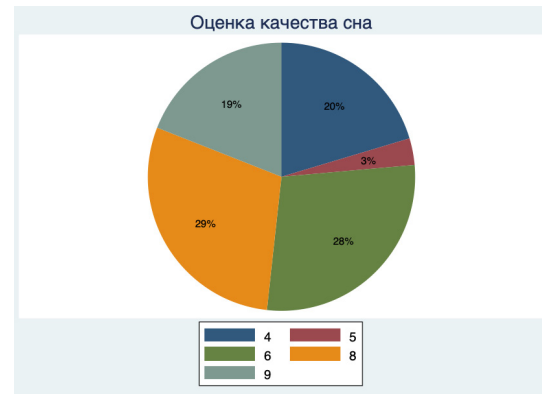
e. Среди перечисленного выше нет верных ответов

12. (10 баллов) (Файл sleep.xlsx) В представленном файле вы можете найти информацию о роде деятельности человека, различных индикаторах качества его сна (субъективная оценка качества, продолжительность, наличие проблем со сном) и состоянии его здоровья. Какие из приведенных ниже графиков могли бы быть получены при проведении анализа взаимосвязи различных показателей качества сна с различными персональными характеристиками человека?

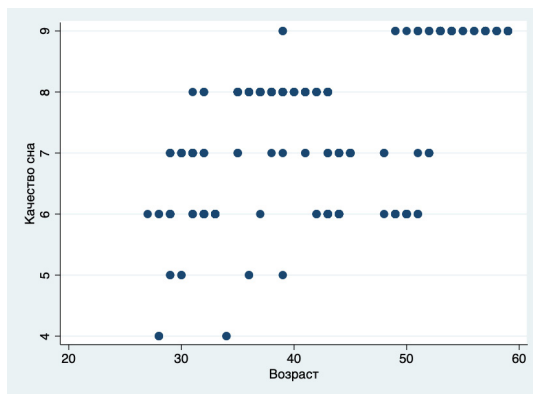
a)



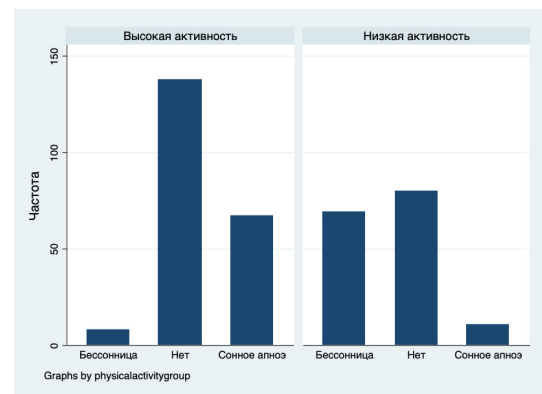
b)



c) +



d) +



e) Среди перечисленного выше нет верных ответов

13. (6 баллов) Вы провели исследование зарплат на рынке труда Соединенных Штатов Америки и получили следующее уравнение регрессии:

$$\text{wage}_i = 0.44 \text{edu}_i + 0.2 \text{male}_i + 0.5 \text{age}_i - 0.03 \text{age}_i^2 + 0.05 \text{male}_i \times \text{edu}_i + 12384.72$$

где  $\text{wage}_i$  — зарплата индивида в тысячах долларов в год;

$\text{edu}_i$  — количество лет, потраченных на получение образования;

$\text{male}_i$  — переменная пола: 1 — если пол мужской, 0 — если пол женский;

$\text{age}_i$  — возраст индивида.

Вас интересует разница в ожидаемой зарплате между двумя группами людей: выпускниками (1-я группа) и выпускницами школ (2-я группа). Также вы знаете, что в школах США все учатся 12 лет и можно считать всех окончивших школу ровесниками.

В ответе укажите разницу в среднем годовом доходе между первой и второй группами — в долларах. Если ответ представлен в виде десятичной дроби, запишите его через точку или запятую с округлением до двух знаков после запятой. Единицы измерения указывать не нужно.

Например, если доход первой группы — 15 долларов, а второй — 20 долларов, в ответе необходимо указать -5.

Ответ: 800

14. (5 баллов) Вы хотите исследовать взаимосвязь между возникновением онкологических заболеваний и загрязнением атмосферы в провинциях Китая. Какие показатели могли бы использоваться для проведения исследования? Выберите все подходящие комбинации.
- Количество пациентов с онкологическими заболеваниями в провинции И количество выбросов в атмосферу за год в провинции
  - Количество пациентов с онкологическими заболеваниями на 1000 человек в провинции И средняя концентрация примесей в воздухе в провинции (+)
  - Количество смертей от онкологических заболеваний в год в провинции И максимальная концентрация примесей в воздухе в провинции
  - Смертность от онкологических заболеваний в провинции И среднеквадратическое отклонение от нормы примесей в воздухе в провинции
  - Среди перечисленного выше нет верных ответов

15. (8 баллов) (Файл «Результаты 2022.xls») В файле с данными представлены результаты финала олимпиады DANO в 2022 году. Этот этап разделен на два тура. Задачный тур является индивидуальным (то есть каждому участнику засчитываются набранные им баллы). Он был написан в онлайн-формате. Проектный тур является командным (то есть все участники одной команды, защищавшие проект, получают одинаковое количество баллов). Он проводился очно. Туры проводились в разное время.

Если участник пропустил один из туров, он мог принять участие в другом. Все школьники, принимавшие участие в одном из туров, получили за него ненулевой балл (то есть итоговая оценка 0 за тот или иной тур означает, что школьник отказался от участия в этом туре или был отстранен). В проектном туре от участия могла отказаться как вся команда, так и отдельные ее участники.

Выберите все верные варианты ответа исходя из анализа представленных в файле данных:

- a. Средний балл за проектный тур у школьников из Санкт-Петербурга выше, чем у школьников из Москвы (+)
  - b. Коэффициент корреляции между оценками команд за аналитический блок и за презентацию — приблизительно 0,806 (+)
  - c. Средний балл за проектный тур у девятиклассников не ниже, чем у десятиклассников
  - d. Среди перечисленного выше нет верных ответов
16. (14 баллов, по 2 за каждое число) (файл defaults\_v2.xlsx) По этому файлу делаются задания 16 и 17.

Вам представлен набор данных о наличии у клиента банка проблем с возвратом кредита, а также другая дополнительная информация о клиенте и взятом кредите. Банки часто используют такую информацию для того, чтобы строить модели для прогнозирования кредитоспособности людей, обращающихся за займом. В следующих двух заданиях вам предлагается рассмотреть несколько факторов на предмет их взаимосвязи с вероятностью допущения неплатежей по кредиту (вероятностью дефолта).

Рассчитайте некоторые значения показателей, необходимые вам для выполнения следующего задания. Если ответ представлен в виде десятичной дроби, запишите его через точку или запятую с округлением до двух знаков после запятой. Единицы измерения указывать не нужно.

Медианное значение LTI = 3,25 (Ответ: 324,88)

Доля дефолтов в группе с LTI ниже медианы = 8,04 (Ответ: 0,08)

Доля дефолтов в группе с LTI выше медианы = 8,23 (Ответ: 0,08)

Доля дефолтов в группе с автомобилями = 7,3 (Ответ: 0,07)

Доля дефолтов в группе без автомобилей = 8,56 (Ответ: 0,09)

Доля дефолтов в группе с недвижимостью = 8,02 (Ответ: 0,08)

Доля дефолтов в группе без недвижимости = 8,39 (Ответ: 0,08)

17. (9 баллов, по 1 за каждый выбор из вариантов) Продолжение задания 16.

Далее для выполнения задания считайте, что если доли дефолтов в двух интересующих вас группах различаются на 1 процентный пункт и более, то отличие считается значимым. Если разница меньше, то считается, что доли равны.

Вам необходимо выбрать подходящий вариант заполнения пропуска, чтобы получилось верное описание гипотез и выводов из расчетов, сделанных ранее.

В этом исследовании мы хотим проверить, связаны ли проблемы с выплатой по кредитам с личными характеристиками заемщика.

Первая гипотеза состоит в том, что отношение объема взятого кредита к доходу (Loan to Income, LTI) (положительно / отрицательно / никак не) взаимосвязан с шансом допустить по нему дефолт. Поделив выборку по этому показателю на две равные части, мы можем посчитать долю дефолтов в группе с высоким LTI и с низким. В результате оказывается, что доля дефолтов в группе с высоким LTI (не отличается от / больше / меньше) доли дефолтов в группе с высоким LTI, то есть гипотеза (отвергается/не отвергается).

Вторая гипотеза состоит в том, что владение автомобилем, на который сейчас не оформлен кредит, (снижает / увеличивает / не влияет на) вероятность того, что человек будет иметь проблемы с возвратом кредитов. Доля дефолтов в группе обладателей автомобилей (не отличается от / больше / меньше) доли дефолтов в группе людей без машины. Таким образом, гипотеза (отвергается / не отвергается).

Третья гипотеза состоит в том, что владение недвижимостью, на которую сейчас не оформлен кредит, (снижает / увеличивает / не влияет на) вероятность того,

что человек будет иметь проблемы с возвратом кредитов. Доля дефолтов в группе собственников недвижимости (не отличается от / больше / меньше) доли дефолтов в группе людей, которые не владеют квартирами. Таким образом, гипотеза (отвергается / не отвергается).